

CONCOURS NATIONAL DE GARDIEN DE LA PAIX DE LA POLICE NATIONALE

SESSION DU 16 SEPTEMBRE 2014

SECOND CONCOURS

**QUESTIONNAIRE A CHOIX MULTIPLE
PORTANT SUR LES FONDAMENTAUX SCOLAIRES**

DUREE TOTALE (incluant les 2 questionnaires) : 1 HEURE 30
Coefficient 1

**CONSIGNES PARTICULIERES
A LIRE ATTENTIVEMENT AVANT LE DEBUT DE L'EPREUVE**

Ce questionnaire comporte 80 questions.
Assurez-vous que le questionnaire qui vous a été remis possède bien la totalité des questions.

Vous devez utiliser la **partie gauche** de la feuille réponse.

Une seule réponse par question est admise. Votre réponse doit apparaître clairement dans la case en regard de la lettre choisie. Vous devez graphiter correctement soit « A », soit « B » ou soit « C ».

En cas d'erreur ou de changement de réponse, vous ne devez pas raturer et vous devez utiliser la deuxième ligne (R) et cocher uniquement une seule réponse soit « A », soit « B » ou soit « C ».

Dans ce cas, seule cette deuxième ligne de réponse est prise en compte.

Si vous cochez plusieurs réponses pour la même question dans la zone de réponse ou de correction, vous obtiendrez la note de zéro à la question.

Vous devez obligatoirement et uniquement utiliser **un stylo à bille à encre bleue ou noire non effaçable** et conserver la même couleur durant toute l'épreuve.

Il est strictement interdit d'utiliser :

- un liquide et autre moyen de correction ;
- un stylo à encre ou à bille de couleur bleue ou noire effaçable (y compris à friction) ;
- un stylo d'une autre couleur que bleue ou noire ;
- un crayon de papier ;
- une calculatrice.

**LE NON-RESPECT DE CES REGLES ENTRAINERA L'ANNULATION
DE LA COPIE PAR LE JURY**

1) Lequel de ces mots est orthographié correctement ?

- A. auditoire
- B. laboratoire
- C. comptoire

2) Le mot " là " désigne :

- A. un adverbe
- B. une conjonction
- C. un pronom

3) On doit écrire :

- A. artichaut
- B. artichaud
- C. artichaux

4) Un adjectif placé immédiatement à côté du nom qu'il qualifie est :

- A. attribut
- B. épithète
- C. apposé

5) Le temps du groupe verbal " était composé " est :

- A. le passé composé
- B. le plus-que-parfait
- C. le passé antérieur

6) Un seul de ces trois mots n'est pas féminin :

- A. haltère
- B. orbite
- C. ecchymose

7) Dans la phrase, " il faut lire la notice avec attention ", " avec attention " est :

- A. complément circonstanciel
- B. complément d'objet
- C. complément d'agent

8) La conjugaison correcte au conditionnel présent est :

- A. j'aurai besoin d'aide
- B. j'aurais besoin d'aide
- C. j'aurais eu besoin d'aide

9) Il faut qu'il ... rapidement son acte de vente.

- A. conclus
- B. conclue
- C. conclut

10) Une seule de ces trois propositions est correcte :

- A. des villages francs-comtois
- B. des villages franc-comtois
- C. des villages franc-comptois

11) A la première personne de l'impératif, le verbe " marcher " s'écrit :

- A. marche
- B. marches
- C. marchons

12) Un de ces mots n'est pas un adverbe. Lequel ?

- A. rapidement
- B. moment
- C. hier

13) Le verbe " suivre " à la première personne du pluriel du passé simple se conjugue :

- A. nous suivimes
- B. nous suivîmes
- C. nous suivâmes

14) Complétez la phrase suivante " Les fleurs que nous avons ... " :

- A. cueillis
- B. cueillies
- C. cueilli

15) Un mot polysémique a :

- A. plusieurs sens
- B. plusieurs orthographes
- C. plusieurs syllabes

16) Le verbe " choir " signifie :

- A. mentir
- B. tomber
- C. paraître

17) L'expression argotique " casser la baraque " signifie :

- A. tout détruire
- B. avoir du succès
- C. manger dehors

18) L'art de bien former les caractères d'écriture est :

- A. la phototypie
- B. la dysgraphie
- C. la calligraphie

19) Quelle phrase est correcte ?

- A. Quelle est la cause du différent qui les perturbe ?
- B. Quelle est la cause du différend qui les perturbent ?
- C. Quelle est la cause du différend qui les perturbe ?

20) Avoir un air contrit signifie qu'on manifeste :

- A. de la colère
- B. du dépit
- C. du regret

21) Les affaires qu'elle m'a ... :

- A. prêté
- B. prêtée
- C. prêtées

22) Il faudrait qu'il ... bien du courage pour réussir !

- A. ai
- B. aie
- C. ait

23) Quelle est la bonne orthographe ?

- A. innoçament
- B. innocemment
- C. innoçamment

24) Complétez la phrase : Si je gagne au loto, ...

- A. je ferai le tour du monde
- B. je ferais le tout du monde
- C. je faisais le tour du monde

25) " Il crût " est le passé simple du verbe :

- A. craindre
- B. croire
- C. croître

26) Complétez : ces livres ce sont les ...

- A. votre
- B. votres
- C. vôtres

27) " Je ne peux pas ne pas venir " signifie :

- A. je viens
- B. je ne viens pas
- C. je viens peut-être

28) Dans la phrase " J'ai acheté un livre qui m'a plu ", " qui m'a plu "est :

- A. proposition principale
- B. proposition subordonnée circonstancielle
- C. proposition subordonnée relative

29) " Quel plaisir de vous recevoir ! " est :

- A. une phrase complexe
- B. une phrase nominale
- C. une phrase simple

30) Quelle est la bonne orthographe ?

- A. des porte-bagage
- B. des portes-bagage
- C. des porte-bagages

31) Quelle est la bonne orthographe ?

- A. des jupes bleu claires
- B. des jupes bleues claires
- C. des jupes bleu clair

32) Quelle est la bonne orthographe ?

- A. mille sept cent quatre-vingt-neuf
- B. mille sept cents quatre-vingt-neuf
- C. mille sept cent quatre-vingts-neuf

33) Quelle est la bonne accentuation ?

- A. un barême
- B. un baréme
- C. un barème

34) Corroborer signifie :

- A. annuler
- B. confirmer
- C. réduire

35) Une personne irascible :

- A. se met à rire facilement
- B. se met en colère facilement
- C. se sent déprimée facilement

36) L'expression " bâtir des châteaux en Espagne " signifie :

- A. avoir des projets dans un pays étranger
- B. avoir des projets qui vont coûter très chers
- C. avoir des projets qui ne se réaliseront jamais

37) Lequel de ces mots n'est pas un pronom relatif ?

- A. quoi
- B. donc
- C. où

38) Une personne lambda est :

- A. un individu exceptionnel
- B. un individu quelconque
- C. un individu dangereux

39) Que signifie un droit inaliénable ?

- A. un droit qui évolue
- B. un droit intangible
- C. un droit que l'on peut perdre

40) Quel est le synonyme d'arbitraire ?

- A. injustifié
- B. objectif
- C. vrai

41) La célérité c'est :

- A. la dureté
- B. la popularité
- C. la rapidité

42) Complétez : Un individu qui a semblé ...

- A. s'intéressait
- B. s'intéresser
- C. s'intéressé

43) Quelle phrase est correcte ?

- A. Ces lunettes je les ai déjà faites réparer !
- B. Ces lunettes je les ai déjà faite réparer !
- C. Ces lunettes je les ai déjà fait réparer !

44) Quelle phrase est correcte ?

- A. On n'y va, c'est notre tour et on sait qu'on n'a pas le choix.
- B. On y va, c'est notre tour et on sait qu'on n'a pas le choix.
- C. On y va, c'est notre tour et on sait qu'on a pas le choix.

45) Quelle est la conjugaison du verbe devenir au passé simple à la troisième personne du pluriel ?

- A. ils devenirent
- B. ils devinrent
- C. ils devîrent

46) Quelle est la nature grammaticale du mot " demain " ?

- A. un adverbe
- B. un nom
- C. un complément

47) Quelle est la bonne orthographe ?

- A. une interpélation
- B. une interpelation
- C. une interpellation

48) Quelle est la bonne orthographe ?

- A. négligeament
- B. négligemment
- C. négligeamment

49) Quelle phrase est correcte ?

- A. Quelles que soient vos réponses elles seront traitées.
- B. Quelques soient vos réponses elles seront traitées.
- C. Qu'elles que soient vos réponse elles seront traitées.

50) Quel est le synonyme du verbe " trépasser " ?

- A. accélérer
- B. mourir
- C. décoller

51) Quelle est la nature de " l " dans la proposition " la joie qui l'habitait lui donnait des ailes " ?

- A. pronom personnel
- B. déterminant possessif
- C. article défini élié

52) Repérer la phrase correcte :

- A. Ils se sont sentis faiblir.
- B. Ils se sont senti faiblir.
- C. Ils se sont sentit faiblir.

53) Que désigne le mot " feu " dans l'expression " feu mon frère " ?

- A. mon frère vainqueur
- B. mon frère malade
- C. mon frère mort

54) Laquelle de ces formes verbales est correctement orthographiée ?

- A. qu'il acquère
- B. qu'il acquière
- C. qu'il acquierre

55) Laquelle de ces phrases contient un adjectif qualificatif attribut du sujet ?

- A. Les fillettes couraient à grande vitesse.
- B. Les fillettes se placent en première position.
- C. Les fillettes sont gagnantes.

56) Lequel de ces mots est un pronom indéfini ?

- A. on
- B. je
- C. se

57) Quelle est la forme exacte ?

- A. Fidéliser davantage notre clientèle.
- B. Fidéliser d'avantage notre clientèle.
- C. Fidéliser d'avantages notre clientèle.

58) Quelle phrase est grammaticalement correcte ?

- A. Des ennuis, nous n'en avons jamais eux.
- B. Des ennuis, nous n'en avons jamais eus.
- C. Des ennuis, nous n'en avons jamais eu.

59) Laquelle de ces phrases comporte le participe passé exact ?

- A. La récompense que nous a value cette mission...
- B. La récompense que nous a valus cette mission...
- C. La récompense que nous a valu cette mission...

60) Lequel de ces mots contient un préfixe ?

- A. entrevoir
- B. journellement
- C. sortir

61) Le résultat d'une division est :

- A. Un quotient
- B. Un dividende
- C. Un reste

62) Le préfixe Méga multiplie une unité par :

- A. 1000
- B. 100 000
- C. 1 000 000

63) La section d'un cylindre par un plan perpendiculaire à son axe, est :

- A. un disque
- B. un cercle
- C. un rectangle

64) La valeur qui partage un groupe statistique en deux sous-groupes de même effectif est :

- A. la médiane
- B. la moyenne
- C. l'écart type

65) Un article coûte 37,80 euros après avoir subi une réduction de 10%. L'équation qui permet de calculer le prix initial x est :

- A. $37,80 - 0,1x = x$
- B. $37,80 = x - 0,1x$
- C. $0,1x = 37,80 - x$

66) Combien de sommet(s) compte une pyramide dont la base est un hexagone ?

- A. 1
- B. 6
- C. 7

67) Dans un triangle, l'intersection des trois médiatrices est :

- A. Le centre de gravité du triangle
- B. Le centre du cercle circonscrit
- C. Le centre du cercle inscrit

68) Pour calculer un prix TTC, pour un taux de TVA de 5,5%, le coefficient à appliquer est :

- A. 1,55
- B. 0,55
- C. 1,055

69) Lequel, parmi ces nombres est premier ?

- A. 1111
- B. 507
- C. 223

70) Dans le cadre d'une représentation graphique à l'aide d'un diagramme circulaire, un effectif de 125 sur 500 correspond à un angle de :

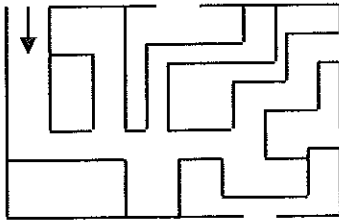
- A. 45 degrés
- B. 90 degrés
- C. 125 degrés

71) Mercredi au marché, Edouard a acheté des pommes. Il en a mangé un tiers le jour même. Le lendemain il a mangé la moitié des pommes restantes. Vendredi, il ne lui en restait que quatre. Combien Edouard a-t-il acheté de pommes ?

- A. 12 pommes
- B. 6 pommes
- C. 18 pommes

72) Observez le plan ci-dessous , pour regagner la sortie, quel chemin devez-vous suivre ?

- A. Tout droit, à gauche, troisième à gauche, à droite, à gauche, à droite
- B. Tout droit, à gauche, à droite, à gauche, à droite, à droite
- C. Tout droit, à gauche, à gauche, à droite, à droite, à gauche



73) Un poisson mesure 45 cm de long. Sa tête est aussi longue que sa nageoire caudale. Si sa tête était deux fois plus longue, sa tête et sa nageoire caudale (queue) réunies feraient la même taille que sa partie centrale. Combien mesure chaque partie du poisson ?

- A. La tête et la nageoire caudale mesure chacune 9 cm et la partie centrale 27 cm
- B. La tête et la nageoire caudale mesure chacune 10 cm et la partie centrale 25cm
- C. La tête et la nageoire caudale mesure chacune 11 cm et la partie centrale 23 cm

74) L'un des enclos d'une animalerie abrite deux races d'animaux : des chiens et des poussins. Trouvez combien il y a d'animal de chaque race, sachant qu'il y a 88 pattes et 60 yeux.

- A. 7 chiens et 8 poussins
- B. 14 chiens et 16 poussins
- C. 21 chiens et 24 poussins










75) A Madrid, il est 7 heures plus tôt qu'à Tokyo. A Tokyo, il est une heure plus tôt qu'à Melbourne. Il est 6h45 du matin un dimanche à Tokyo. Quelle heure est-il dans les deux autres villes ?

- A. 7h45 le dimanche à Melbourne et 23h45 le samedi à Madrid
- B. 7h45 le samedi à Melbourne et 23h45 le dimanche à Madrid
- C. 14h45 le dimanche à Melbourne et 23h45 le samedi à Madrid

76) J'ai plusieurs chiens dans un chenil et plusieurs grandes niches. Si je mets un chien par niche, il me manque une niche. En revanche si je mets deux chiens par niche, j'ai une niche de trop. Combien ai-je de niches et des chiens ?


- A. 3 chiens et 4 niches
- B. 4 chiens et 3 niches
- C. 6 chiens et 5 niches

77) Remplacer le point d'interrogation par le total adéquat :

			15
			8
			14
11	15	?	

- A. le total est 13
- B. le total est 11
- C. le total est 9

78) Remettez les dessins dans l'ordre de l'habillage du plongeur



- A. L'ordre d'habillage est F-D-H-C-B-E-G-A
- B. L'ordre d'habillage est F-D-H-E-B-C-G-A
- C. L'ordre d'habillage est A-G-E-B-C-H-D-F

79) Complétez cette suite numérique : 56, 50, 62, 44, ...

- A. 38
- B. 50
- C. 68

80) Complétez la série : Lyon / Nîmes / Rennes / ...

- A. Paris
- B. Moulins
- C. Colmar